



Сурагчийн нэр:

Эхэлсэн: он сар өдөр




Гурвыг нэгээр нэмэгдүүлэхэд дөрөв.

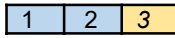
$$3 + 1 = 4$$

Гурав ба нэгийн нийлбэр дөрөв.

1



$$1 + 1 = 2$$



$$2 + 1 = 3$$



$$3 + 1 = \square$$



$$4 + \square = \square$$

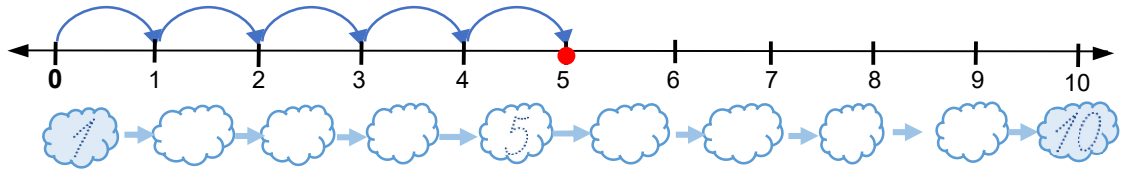
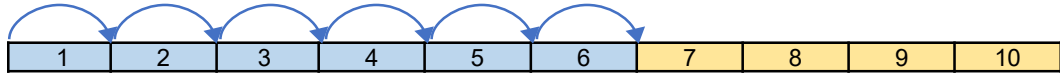


$$5 \square = \square$$



$$6 \square = \square$$

2



3



$7 + 1 = \square$	$\square + \square = \square$	$\square + \square = \square$	$\square + \square = \square$
$\square + \square = \square$	$\square + \square = \square$	$\square + \square = \square$	$\square + \square = \square$

4



$6 + 1 =$	$6 + 1 + 1 =$	$8 + 2 =$
$7 + 1 =$	$7 + 1 + 1 =$	$7 + 2 =$
$8 + 1 =$	$8 + 1 + 1 =$	$6 + 2 =$

Дууссан:сарөдөр




Даалгавар	1	2	3	4
Өөрийн үнэлгээ	😊	😊	😊	😊



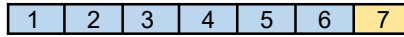

Сурагчийн нэр:

Эхэлсэн: он сар өдөр



$4 - 1 = 3$

1



$7 - 1 = 6$



$6 - 1 =$



$5 - 1 =$



$4 - 1 =$

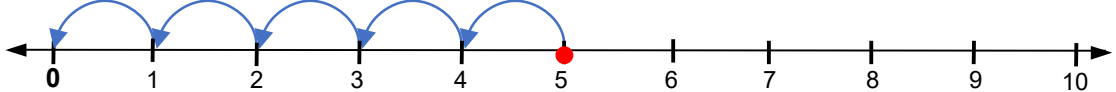
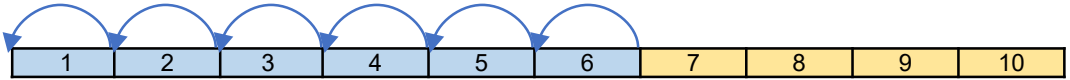


$3 - 1 =$

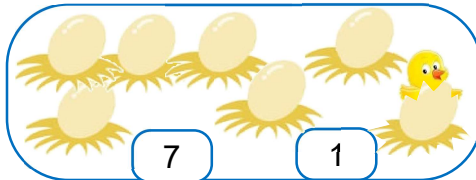


$2 - 1 =$


2



3




$7 - 1 = 6$

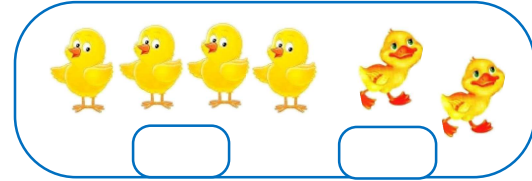


$\square - \square = \square$

4



$\square - \square = \square$



$\square - \square = \square$

5



$6 - 1 =$	$6 - 1 - 1 =$	$8 - 2 =$
$7 - 1 =$	$7 - 1 - 1 =$	$7 - 2 =$
$10 - 1 =$	$10 - 1 - 1 =$	$10 - 2 =$

Дууссан:сарөдөр



Даалгавар	1	2	3	4	5
Өөрийн үнэлгээ	😊	😊	😊	😊	😊



Сурагчийн нэр:



●	●	●	●	●
●	●			

1	2	3	4	5	6	7	8	9	10
---	---	---	---	---	---	---	---	---	----

4	+	3	=	7
---	---	---	---	---

1

●	●	●	●	●
●	●			

+	=		
---	---	--	--

●	●	●	●	●
●	●	●		

+	=		
---	---	--	--

●	●	●	●	●
●	●	●	●	

+	=		
---	---	--	--

●	●	●	●	
●	●	●	●	

+	=		
---	---	--	--

●	●	●		
●	●	●		

+	=		
---	---	--	--

●	●	●	●	●
●	●	●	●	●

+	=		
---	---	--	--

2

1	2	3	4	5	6	7	8	9	10
---	---	---	---	---	---	---	---	---	----

+	=		
---	---	--	--

1	2	3	4	5	6	7	8	9	10
---	---	---	---	---	---	---	---	---	----

+	=		
---	---	--	--

3

6	+	3	=	9
3	+	4	=	
8	+	2	=	
5	+	5	=	
7	+	5	=	

4

6	+	7	=		5	+	4	=		4	+	5	=		2	+	7	=	
8	+	2	=		3	+	5	=		7	+	3	=		7	+	4	=	
5	+	3	=		8	+	1	=		9	+	1	=		3	+	3	=	
5	+	2	=		6	+	4	=		6	+	3	=		4	+	4	=	
6	+	2	=		6	+	3	=		7	+	2	=		4	+	3	=	

Дууссан:сарөдөр



Даалгавар	1	2	3	4
Өөрийн үнэлгээ	😊	😊	😊	😊



Сурагчийн нэр:



●	●	●	●	●
●	●			●

1	2	3	4	5	6	7	8	9	10
---	---	---	---	---	---	---	---	---	----

7	-	3	=	4
---	---	---	---	---

1

●	●	●	●	●
●	●			

- =

●	●	●	●	●
●	●	●		

- =

●	●	●	●	●
●	●	●	●	

- =

●	●	●	●	●
●	●	●	●	●

- =

●	●	●	●	●
●	●	●	●	●

- =

●	●	●	●	●
●	●	●	●	●

- =

2

1	2	3	4	5	6	7	8	9	10
---	---	---	---	---	---	---	---	---	----

- =

1	2	3	4	5	6	7	8	9	10
---	---	---	---	---	---	---	---	---	----

- =

3

6	-	3	=	3
8	-	4	=	
9	-	2	=	
10	-	5	=	
6	-	2	=	

0 1 2 3 4 5 6 7 8 9 10

0 1 2 3 4 5 6 7 8 9 10

0 1 2 3 4 5 6 7 8 9 10

0 1 2 3 4 5 6 7 8 9 10

0 1 2 3 4 5 6 7 8 9 10

4

6	-	1	=		8	-	4	=		5	-	4	=		7	-	2	=	
8	-	2	=		7	-	5	=		7	-	3	=		4	-	1	=	
5	-	3	=		9	-	1	=		9	-	1	=		3	-	3	=	
7	-	2	=		6	-	4	=		6	-	3	=		4	-	4	=	
6	-	2	=		9	-	3	=		7	-	2	=		4	-	3	=	

Дууссан:сарөдөр



Даалгавар	1	2	3	4
Өөрийн үнэлгээ	😊	😊	😊	😊



Сурагчийн нэр:

Эхэлсэн: он сар өдөр



$$3 + 2 = 5$$

$$2 + 3 = 5$$

нэгдүгээр нэмэгдэхүүн

хоёрдугаар нэмэгдэхүүн

нийлбэрийн утга

1

$$\square + \square = \square$$

$$\square + \square = \square$$

2

$$\square + \square = \square$$

$$\square + \square = \square$$

$$\square + \square = \square$$

$$\square + \square = \square$$

3

$$5 + 3 = 3 + 5$$

$$\square + \square = \square + \square$$

$$\square + \square = \square + \square$$

4

$$6 + 1 = 7$$

$$1 + 6 = \square$$

$$8 + 1 = \square$$

$$6 + 2 = \square$$

$$2 + 6 = \square$$

$$1 + 8 = \square$$

$$7 + 3 = \square$$

$$3 + 7 = \square$$

$$3 + 4 = \square$$

$$4 + 5 = \square$$

$$5 + 4 = \square$$

$$4 + 3 = \square$$

$$3 + 5 = \square$$

$$5 + 3 = \square$$

$$2 + 8 = \square$$

5

$$\square + \square = \square + \square$$

$$\square + \square = \square + \square$$

$$\square + \square = \square + \square$$

Дууссан:сарөдөр



Даалгавар	1	2	3	4	5
Өөрийн үнэлгээ	😊	😊	😊	😊	😊



Сурагчийн нэр:

Эхэлсэн: он сар өдөр



 $1 + 5 = 2 + 4$	 $3 + 3 < 4 + 3$
-------------------------	-------------------------

1



$1 + 5 = 5 + 1 = 6$
$2 + 5 = \quad + \quad =$
$3 + 5 = \quad + \quad =$
$4 + 5 = \quad + \quad =$
$5 + 5 = \quad + \quad =$

2



а.

 $\boxed{1} + \boxed{5} = \boxed{\quad} + \boxed{\quad}$

 $\boxed{\quad} + \boxed{\quad} > \boxed{\quad} + \boxed{\quad}$

б.

 $\boxed{\quad} + \boxed{\quad} = \boxed{\quad} + \boxed{\quad}$

 $\boxed{\quad} + \boxed{\quad} > \boxed{\quad} + \boxed{\quad}$

3



 $\boxed{\quad} + \boxed{\quad} = \boxed{\quad} + \boxed{\quad}$

 $\boxed{\quad} + \boxed{\quad} > \boxed{\quad} + \boxed{\quad}$

4



$1 + 2 = 2 + 1$	$1 + 2 < 2 + 2$	$2 + 4 = 4 + 3$
$3 + 1 = 2 + 2$	$4 + 1 = 2 + 4$	$4 + 3 = 4 + 5$
$2 + 3 = 3 + 2$	$6 + 3 = 3 + 2$	$6 + 4 = 8 + 2$
$1 + 3 = 2 + 3$	$7 + 3 = 2 + 5$	$8 + 2 = 9 + 1$

Дууссан:сарөдөр



Даалгавар	1	2	3	4
Өөрийн үнэлгээ				

Сурагчийн нэр:

Эхэлсэн: он сар өдөр



1	2	3	4	5	6	7	8	9	10
---	---	---	---	---	---	---	---	---	----

6 + 4 = 10

1

1	2	3	4	5	6	7	8	9	10
---	---	---	---	---	---	---	---	---	----

+ =

1	2	3	4	5	6	7	8	9	10
---	---	---	---	---	---	---	---	---	----

+ =

2

1	2	3	4	5	6	7	8	9	10
---	---	---	---	---	---	---	---	---	----

+ =

1	2	3	4	5	6	7	8	9	10
---	---	---	---	---	---	---	---	---	----

+ =

1	2	3	4	5	6	7	8	9	10
---	---	---	---	---	---	---	---	---	----

+ =

1	2	3	4	5	6	7	8	9	10
---	---	---	---	---	---	---	---	---	----

+ =

3

1	2	3	4	5	6	7	8	9	10
---	---	---	---	---	---	---	---	---	----

+ =

1	2	3	4	5	6	7	8	9	10
---	---	---	---	---	---	---	---	---	----

+ =

4

1	2	3	4	5	6	7	8	9	10
---	---	---	---	---	---	---	---	---	----

7 + 3 =

1	2	3	4	5	6	7	8	9	10
---	---	---	---	---	---	---	---	---	----

+ =

1	2	3	4	5	6	7	8	9	10
---	---	---	---	---	---	---	---	---	----

+ =

1	2	3	4	5	6	7	8	9	10
---	---	---	---	---	---	---	---	---	----

+ =

Дууссан:сарөдөр



Даалгавар	1	2	3	4
Өөрийн үнэлгээ	😊	😊	😊	😊




Сурагчийн нэр:


Эхэлсэн: он сар өдөр



1




□ + □ = □




□ + □ = □

2



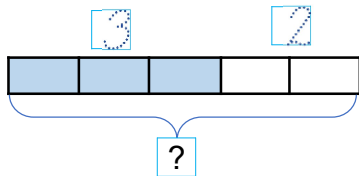
□ + □ = □



□ + □ = □

3

Дээвэр дээр 3 цагаан тагтаа сууж байв. Нэмж 2 хөх тагтаа нисэж ирэв. Дээвэр дээр нийт хэдэн тагтаа сууж байгаа вэ?

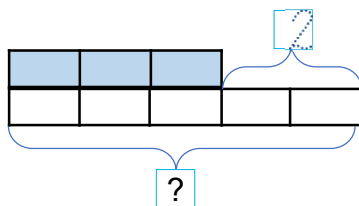


□ + □ = □ (нийт тагтаа)



4

Модон дээр 3 шувуу сууж байв, түүнээс 2-оор олон шувуу нисэж ирэв. Хэдэн шувуу сүүлд нисэж ирсэн бэ?



□ + □ = □ (шувуу ирсэн)



Дууссан:сарөдөр



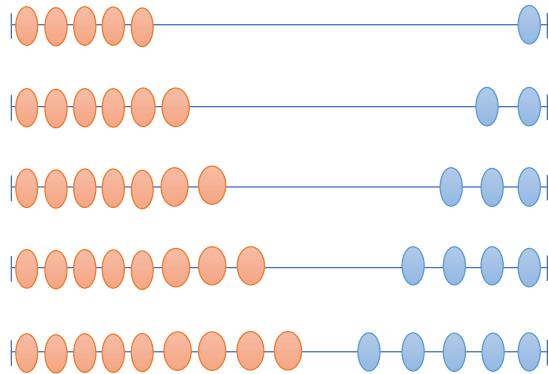
Даалгавар	1	2	3	4
Өөрийн үнэлгээ	☹	☹	☹	☹



Сурагчийн нэр:

Эхэлсэн: он сар өдөр

1



5	-	1	=						
6	-	2	=						
7	-	3	=						
8	-	4	=						
9	-	5	=						

2

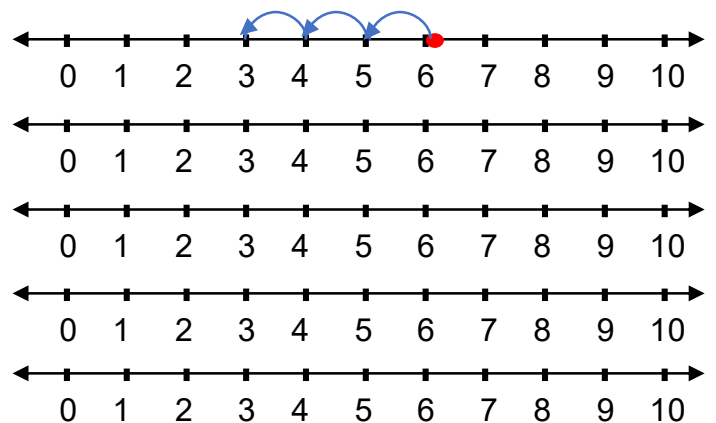


4	-	1	>	3	-	1		4	-	4		4	-	3		5	-	2		6	-	2
2	-	1		2	-	2		8	-	3		9	-	5		6	-	3		7	-	3
3	-	2		3	-	2		9	-	4		8	-	2		9	-	6		8	-	4
3	-	1		3	-	3		7	-	2		9	-	1		4	-	2		8	-	5

3



6	-	3	=				
5	-	3	=				
8	-	2	=				
7	-	3	=				
4	-	0	=				



4



2	-	2	=	0		8	-	2	=	6		10	-	6	=	4
8	-	1	=				-	4	=	4		10	-		=	9
4	-	2	=				-	4	=	3		10	-		=	8
6	-	3	=				-	2	=	3		10	-		=	7
5	-	5	=				-	5	=	2		10	-		=	5

Дууссан:сарөдөр



Даалгавар	1	2	3	4
Өөрийн үнэлгээ	😊	😊	😊	😊



Сурагчийн нэр:

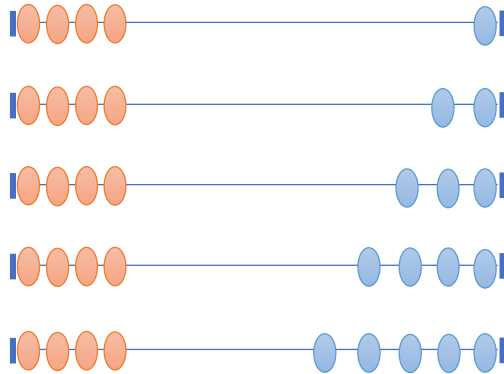
Эхэлсэн: он сар өдөр



$$\begin{array}{l} 5 - 1 = 4 \\ 5 - 2 = 3 \end{array}$$

хасагдагч
хасагч
ялгаврын утга

1 Ялгаврыг бичээд шалгаарай.



$5 - 1 = 4$	$4 + 1 = 5$
$6 - 2 =$	$4 + 2 =$
$7 - 3 =$	$4 + 3 =$
$8 - 4 =$	$4 + =$
$9 - 5 =$	$4 + =$

2 а. $9 - 4 = \square$

б. $7 - 2 = \square$

в. $5 - \square = \square$



$9 - 5 = \square$

$7 - 3 = \square$

$5 - \square = \square$

$9 - 6 = \square$

$7 - 4 = \square$

$5 - \square = \square$

3 а.

Нэмэгдэхүүн	6	6	6	6
Нэмэгдэхүүн	1	2	3	4
Нийлбэрийн утга				

б.

Хасагдагч	9	9	9	9
Хасагч	5	6	7	8
Ялгаврын утга				

4



	10	10	10	10	10	10	10	10	10	10
	1	2	3	4	5	6	7	8	9	10
	2	2	2	2	2	2	2	2	2	0
- -										

5

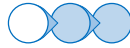


$7 - 2 =$	$8 - 2 =$	$10 - 5 - 4 =$
$8 - 1 =$	$7 - 4 =$	$10 - 1 - 3 =$
$4 - 2 =$	$7 - 3 =$	$10 - 2 - 4 =$
$6 - 3 =$	$3 - 3 =$	$10 - 2 - 7 =$

Дууссан:сарөдөр



Даалгавар	1	2	3	4
Өөрийн үнэлгээ				



Сурагчийн нэр:

Эхэлсэн: он сар өдөр



$7 - 2 = 5$
 $7 - 5 = 2$
 $2 + 5 = 7$

1

$9 - 3 = \square$
 $9 - 6 = \square$
 $6 + 3 = \square$

$\square - \square = \square$
 $\square - \square = \square$
 $\square + \square = \square$

2

$\square - \square = \square$
 $\square - \square = \square$
 $\square + \square = \square$

$\square - \square = \square$
 $\square - \square = \square$
 $\square + \square = \square$

3

- 2 = 7	- 6 = 2	- 6 = 1	
- 7 = 2	- 4 = 2	10 - = 2	
9 - = 1	8 - = 4	- 2 = 5	
8 - = 4	9 - = 9	9 - = 1	

4

Нэмэгдэхүүн	6		4	6
Нэмэгдэхүүн	1	5		3
Нийлбэрийн утга	7	8	6	

Хасагдагч	9	4	7	
Хасагч	5		4	6
Ялгаврын утга	4	3		4

Дууссан:сарөдөр



Даалгавар	1	2	3	4
Өөрийн үнэлгээ	😊	😊	😊	😊



Сурагчийн нэр:

Эхэлсэн: он сар өдөр



$6 - 2 = 4$ (үлдсэн)

1

$\square - \square = \square$

$\square - \square = \square$

2

$\square - \square = \square$

$\square - \square = \square$

3

Модон дээр 8 сууж байв. Түүнээс 5 нисэв. Модон дээр хэдэн үлдсэн бэ?

$\square - \square = \square$

4

Сагсанд 6 гадил жимс, түүнээс хоёроор цөөн алим байв. Сагсанд хэдэн алим байгаа вэ?

$\square - \square = \square$

Дууссан:сарөдөр



Даалгавар	1	2	3	4
Өөрийн үнэлгээ				

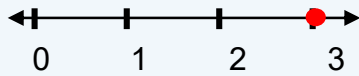


Сурагчийн нэр:

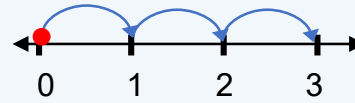
Эхэлсэн: он сар өдөр



$$3 + 0 = 3$$



$$0 + 3 = 3$$



Тоон дээр тэг нэмэх, тэг дээр тоо нэмэхэд тэр тоо өөрөө гарна.

1

$$3 + 0 = \square$$

$$\square + \square = \square$$

$$\square + \square = \square$$

2

$$0 + 3 = \square$$

$$\square + \square = \square$$

$$\square + \square = \square$$

3

$6 + 0 =$	$0 + 7 =$	$5 + 0 =$	$0 + 2 =$
$8 + 0 =$	$0 + 7 =$	$7 + 0 =$	$0 + 3 =$
$5 + 0 =$	$0 + 9 =$	$9 + 0 =$	$0 + 8 =$
$3 + 0 =$	$0 + 4 =$	$4 + 0 =$	$0 + 6 =$

4

$$6 + 0 > 0$$

$$0 + 8 \dots 8$$

$$4 + 6 \dots 0$$

$$0 + 7 = 7$$

$$9 + 0 \dots 7$$

$$5 + 0 \dots 5$$

$$8 + 0 < 9$$

$$0 + 1 \dots 2$$

$$0 + 8 \dots 0$$

Дууссан:сарөдөр




Даалгавар	1	2	3	4
Өөрийн үнэлгээ	😊	😊	😊	😊

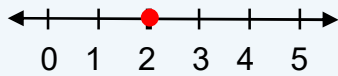


Сурагчийн нэр:

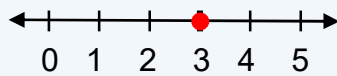
Эхэлсэн: он сар өдөр



$$\boxed{2} - \boxed{0} = \boxed{2}$$




$$\boxed{3} - \boxed{0} = \boxed{3}$$




Тооноос тэгийг хасахад тэр тоо өөрчлөгдөхгүй.


1



$$\square - \square = \square$$



$$\square - \square = \square$$



$$\square - \square = \square$$

2



$10 - 0 =$	$10 - 10 =$	$1 - 0 =$			
$8 - 0 =$	$4 - 4 =$	$2 - 0 =$			
$9 - 0 =$	$9 - 9 =$	$3 - 0 =$			
$7 - 7 =$	$7 - 0 =$	$4 - 0 =$			
$6 - 0 =$	$3 - 3 =$	$5 - 0 =$			

3



$1 - 0 =$	$6 - 6 =$	$6 - 0 =$			
$2 - 0 =$	$7 - 7 =$	$7 - 0 =$			
$3 - 0 =$	$8 - 8 =$	$8 - 0 =$			
$4 - 0 =$	$9 - 9 =$	$9 - 0 =$			
$5 - 0 =$	$10 - 10 =$	$10 - 0 =$			

4



$9 - 0 = 9$	$6 - \square = 6$	$\square - 0 = 1$	$\square - 0 = 4$
$8 - \square = 8$	$5 - \square = 5$	$\square - 0 = 2$	$\square - 0 = 5$
$7 - \square = 7$	$4 - \square = 4$	$\square - 0 = 3$	$\square - 0 = 8$

Дууссан:сарөдөр



Даалгавар	1	2	3	4
Өөрийн үнэлгээ	😊	😊	😊	😊